

令和8年度 鹿屋中央高等学校入学試験問題

社 会

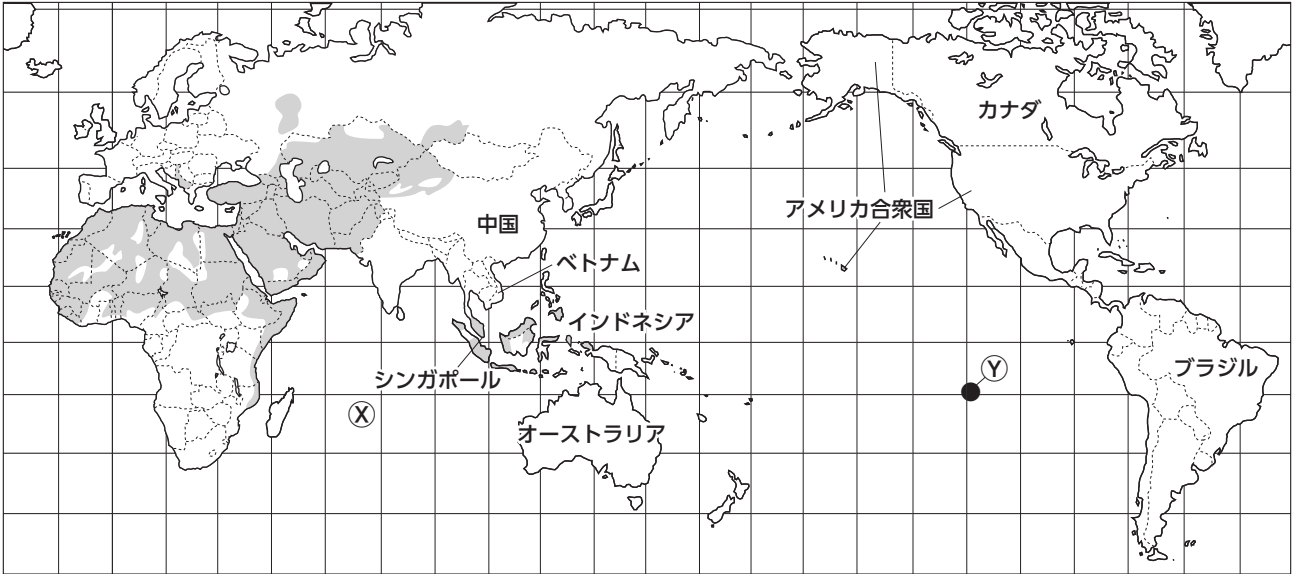
注 意

- 1 監督者の「始め」の合図があるまで開いてはいけません。
- 2 問題用紙は表紙を入れて10ページあり、これとは別に解答用紙が1枚あります。
- 3 受験番号や氏名は、解答用紙及び問題用紙の決められた欄に記入しなさい。
また、解答用紙の「QRコードのシールをここにはってください。」と書かれた
わくの中にシールをはみ出さないようにはりなさい。
- 4 答えは、問題の指示に従って、**すべて解答用紙に記入しなさい。**
- 5 監督者の「やめ」の合図ですぐにやめなさい。

受験 番号	
----------	--

1 次のⅠ，Ⅱの問いに答えなさい。答えを選ぶ問いについては一つ選び、その記号を書きなさい。

Ⅰ 次の略地図を見て、1～7の問いに答えなさい。



※緯線・経線は15度ごとに引かれている。

- 略地図中のⓧは、三大洋の一つです。この海洋の名称を書きなさい。
- 略地図中のⓎは、南緯15度、西経120度の地点です。Ⓨから地球の中心に引いた線をのばして、地球上の正反対にあたった地点として最も適当なものを選びなさい。
 ア (北緯15度、東経120度) イ (北緯15度、東経60度)
 ウ (北緯75度、東経120度) エ (北緯75度、東経60度)
- 略地図中の [] の地域で主に信仰されている宗教として最も適当なものを選びなさい。
 ア イスラム教 イ キリシト教 ウ ヒンドゥー教 エ 仏教
- 資料1中のア～ウは、略地図中のブラジル、中国、カナダのいずれかの貿易の様子についてまとめたものです。ブラジルはどれか、選びなさい。

資料1

各国の貿易の様子(主な品目の数字は輸出・輸入それぞれの全体に占める割合(2022年))

	貿易額	主な品目(%)
ア	輸出	5968億ドル 原油(20.2), 機械類(8.9), 自動車(8.2)
	輸入	5716億ドル 機械類(23.7), 自動車(14.1), 石油製品(3.8)
イ	輸出	3兆5936億ドル 機械類(41.0), 衣類(5.1), 自動車(4.5)
	輸入	2兆7160億ドル 機械類(29.8), 原油(13.5), 鉄鉱石(4.7)
ウ	輸出	3345億ドル 大豆(14.0), 原油(12.8), 鉄鉱石(8.6)
	輸入	2923億ドル 機械類(24.1), 化学肥料(9.1), 石油製品(8.9)

(「世界国勢図会 2024/25」から作成)

- 略地図中のオーストラリアでかつて行われていた、白人以外の移民を厳しく制限する政策の名称を書きなさい。

6 略地図中のアメリカ合衆国について説明した次のA, Bの文の正誤の組み合わせとして, 適当なものを選びなさい。

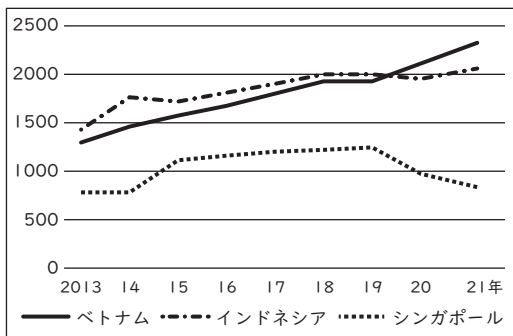
- A 五大湖周辺に, ICT産業が盛んなサンベルトとよばれる工業地域が形成されている。
 B 地域ごとの自然環境に適した農作物を栽培する, 適地適作が行われている。

- ア (A 正 B 正) イ (A 正 B 誤)
 ウ (A 誤 B 正) エ (A 誤 B 誤)

7 略地図中のベトナム, インドネシア, シンガポールには, 日本の企業が数多く進出しています。資料2, 資料3から読み取れることをもとにして, ベトナムやインドネシアに進出している日本企業数の推移の特徴を, シンガポールと比較しながら説明しなさい。

資料2 進出している日本企業数の推移

資料3 製造業(一般職)の1か月あたりの平均賃金



(外務省資料から作成)

国名 (都市名)	2013年 (米ドル)	2021年 (米ドル)
ベトナム (ハノイ)	145	241
インドネシア (ジャカルタ)	239	421
シンガポール (シンガポール)	1230	1907

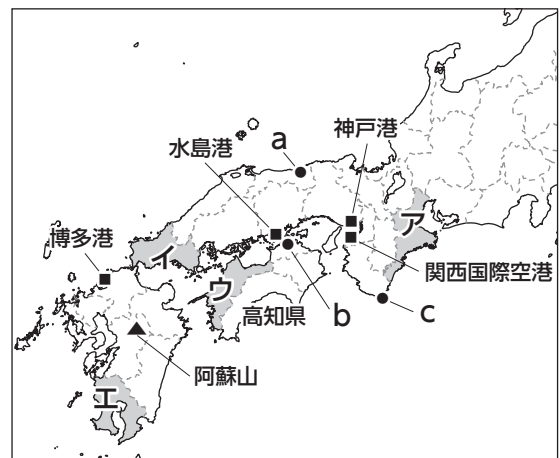
(JETRO 資料から作成)

II あんさんは, 日本の地理に関する学習の振り返りを行いました。右の略地図を見て, 1~7の問いに答えなさい。

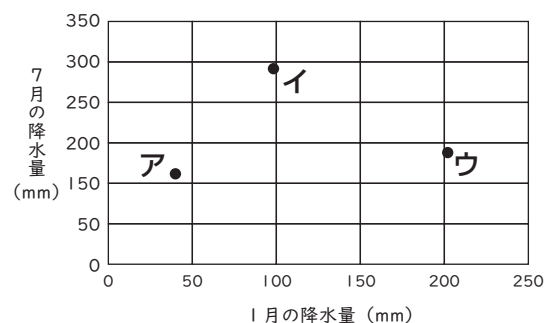
- 中国・四国地方の9県のうち, 県名と県庁所在地名が違う県の数を書きなさい。
- 略地図中の阿蘇山の噴火で火山灰や溶岩がふき出したあとにできた大きなくぼ地を何というか, 4字で書きなさい。
- 略地図中のア~エの県のうち, 次の①・②の条件を両方満たす県を選びなさい。

- ① 英虞湾では真珠の養殖が盛んである。
 ② 林業が古くから行われ, 「尾鷲ひのき」は木材のブランドとして有名である。

4 資料1中のア~ウは, 略地図中の都市a~cの1月と7月の降水量を示したものです。a~cにあてはまるものをそれぞれ選びなさい。



資料1

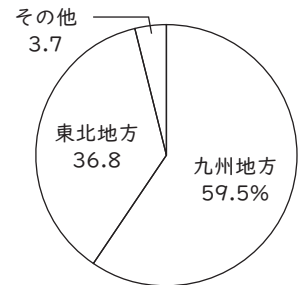


(「理科年表 2025」から作成)

5 資料2は、ある発電方式の7地方別発電量割合（2023年度）を示したものです。この発電方式として最も適当なものを選びなさい。

- ア 火力発電 イ 水力発電
ウ 地熱発電 エ 原子力発電

資料2



（「データでみる県勢 2025」から作成）

6 資料3は、略地図中の神戸港、関西国際空港、博多港、水島港のいずれかの主な輸出品目とその金額割合（2023年）をまとめたものであり、ア～エは神戸港、関西国際空港、博多港、水島港のいずれかです。関西国際空港はどれか、選びなさい。

資料3

	主な輸出品目とその金額割合 (%)
ア	建設用・鉱山用機械 7.8, プラスチック 6.3, 輸送用機器 5.6
イ	鉄鋼 31.3, 石油製品 17.8, 有機化合物 13.4
ウ	集積回路 31.5, 輸送用機器 28.7, 半導体等製造装置 4.4
エ	集積回路 19.1, 医薬品 6.7, 電気回路等の機器 5.9

（「日本国勢協会 2025/26」から作成）

7 あんさんは、略地図中の高知県でつくられる農作物に興味をもち、農作物の生産・出荷に関する資料4を作成して、下のようにまとめを行いました。まとめの文章中の に適することばを補い、これを完成させなさい。ただし、資料A～資料Cから読み取れることをもとにして、25字以上40字以内で書くこととします。

資料4 あんさんが作成した資料

資料A 大阪市中央卸売市場における高知県産みょうがの取扱量とシェアの推移

（「大阪市中央卸売市場年報」から作成）

資料B 本州四国連絡橋と高速道路開通の歴史

年	主なできごと
1988	瀬戸大橋が開通する
1992	瀬戸大橋と高松自動車道が結ばれる
1998	明石海峡大橋が開通し、神戸－鳴門ルートと高松自動車道が結ばれる
2003	高松自動車道が全線開通する

資料C 高知県－大阪府の所要時間の推移

1985年	2022年
520分	270分

（「道路時刻表」などから作成）

まとめ

大阪市中央卸売市場における高知県産みょうがのシェア（みょうがの取扱量全体に占める高知県産の割合）は、1988年は5%ほどだったが、2022年にはほぼ100%となっている。このような変化が起こったのは、本州四国連絡橋や高速道路が開通したことにより、 ことなどが背景として考えられる。

2

次のⅠ，Ⅱの問いに答えなさい。答えを選ぶ問いについては一つ選び、その記号を書きなさい。

Ⅰ 次は、ある中学校の生徒たちが歴史の授業で近世までの学習が終了し、「世界遺産に登録された建造物や遺跡」というテーマでまとめたカードの一部です。1～6の問いに答えなさい。

A 銀閣 (1994年登録)

・㉓足利義政が、京都の東山の別荘に建てた。

B 東大寺 (1998年登録)

・㉔聖武天皇が奈良の都に建立した。

C 日光東照宮 (1999年登録)

・徳川家光が、祖父の徳川家康をまつるためにつくった寺院である。

D 金剛峯寺 (2004年登録)

・①宗を開いた空海が、高野山に建立した寺院である。

E 中尊寺金色堂 (2011年登録)

・奥州②氏が拠点にした、岩手県の平泉につくられた阿弥陀堂である。

F 三内丸山遺跡 (2021年登録)


・㉕縄文時代の前期～中期の大規模集落跡である。

1 ①, ②にあてはまる最も適切なことばを、それぞれ漢字2字で書きなさい。

2 ㉓に関して、資料1は、銀閣の敷地につくられた東求堂同仁齋です。資料1にみられる建築様式の名を書きなさい。

3 ㉔のころの時代に関して、次の文章のX～Zにあてはまることばの組み合わせとして、適当なものを選びなさい。

資料1



朝廷は公地公民の原則にしたがい、人々にXをあたえるとともに、地方の特産物を納めさせるYなどの税や労役を課した。やがてXが不足してくると、743年にZを出して土地の私有を認めた。

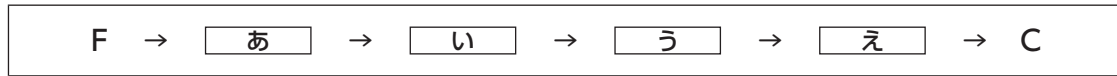
- ア (X 荘園 Y 調 Z 墾田永年私財法)
- イ (X 荘園 Y 租 Z 班田収授法)
- ウ (X 荘園 Y 租 Z 墾田永年私財法)
- エ (X 口分田 Y 租 Z 班田収授法)
- オ (X 口分田 Y 調 Z 墾田永年私財法)
- カ (X 口分田 Y 調 Z 班田収授法)

4 ㉕のころの社会の様子について述べた文として最も適当なものを選びなさい。

- ア 邪馬台国の卑弥呼が魏に使いを送り、「親魏倭王」の称号と金印を授けられた。
- イ 朝鮮半島から日本にきた渡来人が、儒学や仏教、須恵器のつくり方を伝えた。
- ウ 人々は定住するようになり、豊かな実りを祈るために土偶という土人形をつくった。
- エ 稲作が東北地方にまで広がり、文様の少ない薄手でかための土器がつくられた。

- 5 なつさんは、カードA～Fを、建造物・遺跡がつくられた年代の古い順に並べかえました。カードを並べかえた次の図の 、 にあてはまるカードをそれぞれ答えなさい。

図



- 6 なつさんは、カードCの徳川家光の政策について調べ、武家諸法度について考えました。なつさんの考えの文章中の、 に適することばを補い、これを完成させなさい。ただし、 には、資料4から読み取れる時代の変化と資料3の方針の目的を関連づけた内容を書くこととします。

資料2 徳川家光が武家諸法度に追加した方針

五百石積み以上の大船をつくってはいけない。

資料4 1853年の浦賀沖の様子



資料3 1853年に示された方針

商船以外の大船は法令で禁止していたが、今後は諸大名が大船をつくることを許可する。

なつさんの考え

徳川家光は、鎖国の完成や参勤交代の制度化など、江戸幕府の体制を強化・安定させるための政策を次々に行った。資料2に示した、大名に大船建造の禁止を命じる法令も江戸幕府の体制強化を目的として出されたが、19世紀半ばになると ために、資料3の方針に転換された。

- II 次は、ある中学校の生徒たちが作成した、近代以降の世界や日本の様子についてまとめたスライドの一部です。1～6の問いに答えなさい。

<p style="text-align: center;">A 明治初期の日本の政治</p> <p>経緯 徳川慶喜が政権を朝廷に返す <input type="text" value="①"/> を行った後、明治維新が行われた。</p> <p>結果 政治・経済・社会の近代化が進んだ。その一方で、藩閥政治への不満から、③自由民権運動がはじめられた。</p>	<p style="text-align: center;">B 大正時代の世界と日本</p> <p>世界 第一次世界大戦が終結し、⑤講和会議が開催された。</p> <p>日本 米騒動により寺内正毅内閣が退陣すると、立憲政友会の <input type="text" value="②"/> が、初の本格的な政党内閣を結成した。</p>
<p style="text-align: center;">C 戦時体制の確立</p> <p>政策</p> <ul style="list-style-type: none"> ・ ④国家総動員法で、政府が議会の承認なしに労働力や物資を動員できるようにした。 ・ 政党が解散し、新たに結成された大政翼賛会に合流した。 	<p style="text-align: center;">D 第二次世界大戦後のアジア諸国</p> <p>朝鮮 1948年に大韓民国、朝鮮民主主義人民共和国が成立した後、④1950年から朝鮮戦争がはじまった。</p> <p>中国 内戦に勝利した共産党が1949年に⑥中華人民共和国を建国した。</p>

- 1 ①, ② にあてはまる最も適切なことばと人名を書きなさい。
- 2 ㉔に関して、自由民権運動から第1回衆議院議員選挙開催までの間のできごとについて述べた文として、最も適切なものを選びなさい。
- ア 自由民権運動は、西郷隆盛らが民撰議院設立の建白書を政府に提出したことではじまった。
- イ 国会開設の勅諭が出された後、大隈重信を党首とする自由党が結成された。
- ウ 第1回帝国議会で内閣総理大臣に指名された伊藤博文が、初代の内閣総理大臣となった。
- エ 第1回衆議院議員選挙では、直接国税を15円以上納める、満25歳以上の男子にのみ選挙権があたえられた。

- 3 ㉕について述べた次の文章中の㉖, ㉗について、() からそれぞれ適切なものを選んで書きなさい。

略地図



※国境は現在のものである。

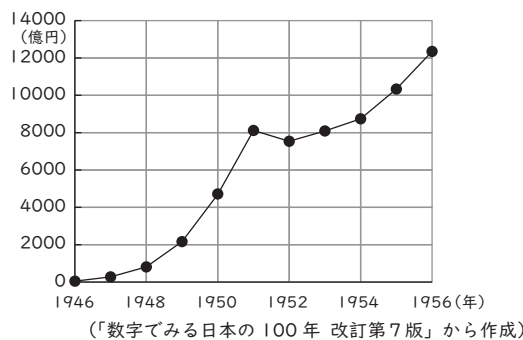
第一次世界大戦の講和会議は、略地図中の(㉖: X・Y)で行われました。この会議でアメリカのウィルソン大統領が民族自決の原則を唱えましたが、アジアやアフリカでは植民地支配が続いたため、朝鮮では(㉗: 三・一独立運動・五・四運動)が起きました。

- 4 ㉔のできごと以前に起こったできごとに関するスライドを、次から三つ選び、そのできごとが起こった年代の古い順に並べなさい。

<p>ア 関東軍が満州事変を起こし、満洲国の建国を宣言した。</p>	<p>イ ミッドウェー海戦に敗北したことで、日本軍の攻勢は止まった。</p>
<p>ウ 陸軍の青年将校が大臣などを殺傷し、東京の中心部を占拠する二・二六事件が起こった。</p>	<p>エ 日本代表が総会から退場し、翌月正式に国際連盟の脱退を通告した。</p>

- 5 ㉔について、朝鮮戦争が日本の経済にどのような影響をあたえたか、資料1、資料2から読み取れることをもとにして説明しなさい。ただし、軍需物資ということばを用いることとします。

資料1 日本の輸出と海外からの所得の推移



資料2 主要物資の年別契約高(上位3位)

	1位	2位	3位
1950年	トラック	綿布	毛布
1951年	自動車部品	石炭	綿布
1952年	兵器	石炭	麻袋
1953年	兵器	石炭	食糧品

※各年6月はじまり翌年5月までの統計。

(「近現代日本経済史要覧」から作成)

- 6 ㉔について、日本と中華人民共和国の国交が正常化した年に起こったできごととして最も適切なものを選びなさい。

- ア 沖縄が日本に返還される。 イ 所得倍増計画が発表される。
- ウ 東海道新幹線が開通する。 エ 農地改革が行われる。

- 3** 次のⅠ、Ⅱの問いに答えなさい。答えを選ぶ問いについては一つ選び、その記号を書きなさい。
- Ⅰ ある中学校では、「現代社会と政治」というテーマで探究活動を行いました。次は、生徒たちの会話文です。1～6の問いに答えなさい。

たろうさん：今度の探究活動だけど、みんなそれぞれが興味をもっているテーマについて調べ、スライドにまとめることにしようよ。はなこさんは何について調べたい？

はなこさん：私は③日本の人口について調べてみようと思っているよ。じろうさんはどう？

じろうさん：ぼくは人権に興味をもっているので、⑥人権思想の発展の歴史や、③日本国憲法に定められている基本的人権についてまとめるよ。

つきこさん：私は④2025年の7月に行われた国政選挙に関連して選挙と国の政治について調べるか、⑤地方の政治について調べるか、もう少し考えてみるね。

たろうさん：ぼくは①グローバル化と日本というテーマで、現代の日本をとらえてみたいと考えているよ。

- 1 ③について説明した次のA、Bの文の正誤の組み合わせとして、適当なものを選びなさい。

A 日本では少子高齢化が急速に進んでおり、年金や社会保障などのしくみを支える一人当たりの負担が増えるということが課題になっている。

B 現代の日本は、30年前と比べて、親と未婚の子ども、あるいは夫婦だけからなる核家族世帯が増えている一方で、祖父母と親と子どもで構成される三世帯世帯や、一人暮らしの単独世帯が減っている。

- ア (A 正 B 正) イ (A 正 B 誤)
 ウ (A 誤 B 正) エ (A 誤 B 誤)

- 2 ⑥に関して、1948年に国際連合で採択された、人権保障についてはじめて国際的に定めた資料を何というか、書きなさい。
- 3 ③に関して、日本国憲法に定められている基本的人権の説明として誤っているものを選びなさい。

資料

第1条 すべての人間は、^{うま}生れながらにして自由であり、かつ、尊厳と権利とについて平等である。人間は、理性と良心とを授けられており、互いに同胞の精神をもって行動しなければならない。

- ア 財産権の保障や居住・移転の自由などの権利は、公共の福祉による制限を受けることがある。
- イ 社会権の一つとして、団結権、団体交渉権、団体行動権からなる労働基本権が保障されている。
- ウ 住居の日当たりの確保を求める日照権は、環境権の一つとして憲法第13条に明記されている。
- エ 国や地方公共団体に何かを要望する請願権は、参政権の一つとして認められている。
- 4 ④に関して、2025年の7月に行われた国政選挙について述べた次の文章中の㉞、㉟について、() からそれぞれ適当なものを選んで書きなさい。

2025年の7月に3年ぶりに行われた(㉞： **衆議院** ・ **参議院**)議員の選挙は、選挙区制と比例代表制を組み合わせで行われており、比例代表制ではドント式とよばれる方法で当選者を決める。下記の例のように各党が得票し、5議席を配分する場合、C党の議席の獲得数は(㉟： 2 ・ 1 ・ 0)議席になる。

例：A党：1500票 B党：1200票 C党：900票


5 ㉔に関して述べた次の文章の , にあてはまる最も適切なことばを書きなさい。

住民が自らの意思と責任で地域の政治を行うことを地方自治といい、住民が参加して、身近な問題の解決をめざす地方自治は「の学校」ともよばれる。地方自治を行うためには十分な財源が必要だが、住民が納める地方税などの自主財源だけで収入をまかなえない地方公共団体も多いため、地域間の財政の格差をおさえるためのが配分されている。

6 ㉕に関して、たろうさんはレポートを作成しました。次のレポートの一部を読んで、近年「やさしい日本語」の取り組みが行われるようになった理由として考えられることは何か、説明しなさい。
レポートの一部

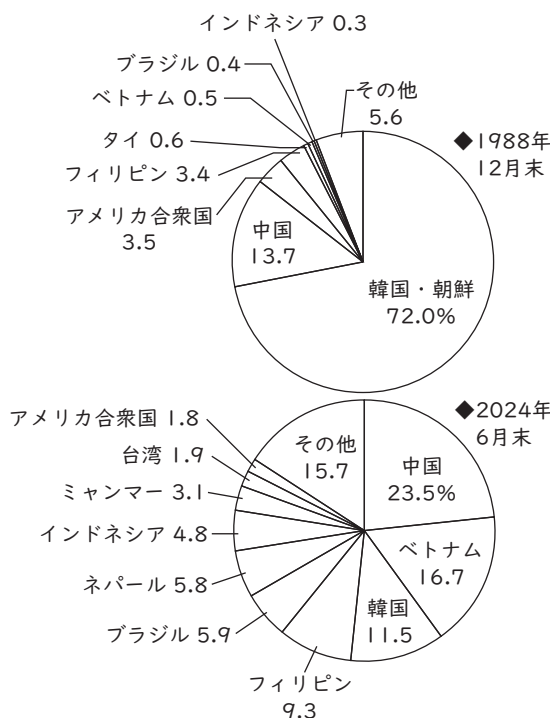
「やさしい日本語」は、文法・ことばのレベルや文章の長さに配慮し、わかりやすくした日本語です。

資料A ある地方公共団体で作成している「やさしい日本語」を用いたポスターと、ポスターにみられる「やさしい日本語」の使い方のポイント



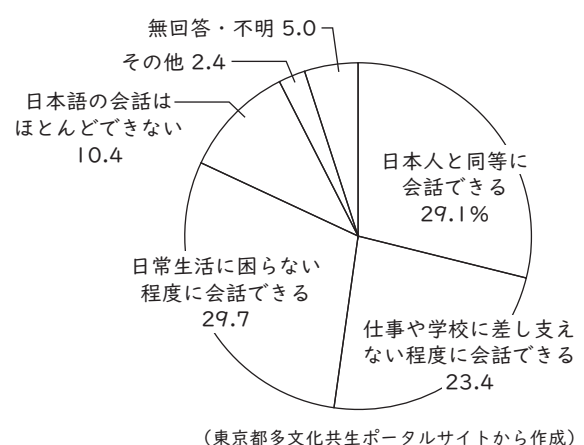
- 一文が短い。
- 簡単な言い回しを用いる。
- イラストや写真などを用いる。
- 漢字にはふりがなをつける。
- 語と語の間、文節と文節との間を1文字分空ける。

資料B 在留外国人の国籍・地域別の内訳の推移



※資料B中の中国には台湾を含まない。(出入国在留管理庁資料などから作成)

資料C 外国人の日本語での会話力



II 次は、なみさんが、公民分野についての学習を振り返ってまとめたメモです。1～7の問いに答えなさい。

■企業と生産

・株式会社は株式の発行によって資金を得ている。株主は会社の利益の一部を として受け取ることができる。企業が資金を調達する方法として、㉔インターネット上でアイデアと必要な資金の金額を提示し、それを見て応援したいと思った人が出資に応じるしくみも活用されている。

■金融と財政

・㉖銀行は私たちの暮らしにとって身近な金融機関の一つである。
 ・政府の収入は基本的に㉓税金で、㉔社会保障関係費などに支出されるが、近年は、国債にたよる割合が高い。

■国際社会

・現在も世界各地で起きている紛争により、多くの㉕難民が発生している。

■印象に残ったこと

近年、物価の上昇がニュースになっているので㉑モノの価格についてもっと詳しく調べてみようと思った。

- にあてはまる最も適当なことばを、漢字2字で書きなさい。
- ㉔のしくみを何というか。最も適当なものを選びなさい。
 ア フィンテック イ インフォームド・コンセント
 ウ クーリング・オフ エ クラウドファンディング
- ㉖について説明した次のA、Bの文の正誤の組み合わせとして、適当なものを選びなさい。

A 日本の中央銀行は日本銀行で、日本銀行だけが紙幣を発行する役割をもつ。
 B 銀行は一般的に、預金者に支払う利子率よりも、融資する相手から受け取る利子率を高くしている。

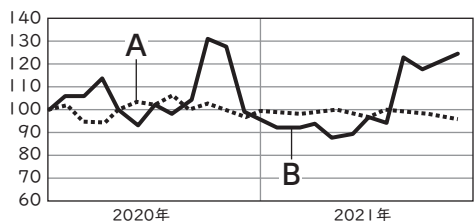
ア (A 正 B 正) イ (A 正 B 誤) 表
 ウ (A 誤 B 正) エ (A 誤 B 誤)

- ㉓に関して、税金を表のように分類したとき、国税にあてはまるものを表中の①、②から、間接税にあてはまるものを表中のX、Yから、それぞれ選んで書きなさい。

	①	②
X	ゴルフ場利用税 入湯税	消費税 関税
Y	事業税 自動車税	法人税 相続税

- ㉔に関して、日本の社会保障制度のうち、最低限の生活ができない人々に対し、生活費や教育費などを支給する制度として最も適当なものを選びなさい。
 ア 社会福祉 イ 公衆衛生 ウ 社会保険 エ 公的扶助
- ㉕に関して、難民の保護や支援を行っている国連の機関として最も適当なものを選びなさい。
 ア UNICEF イ WHO ウ UNHCR エ UNESCO
- ㉑に関して、資料中のA、Bは、トマト、トマトケチャップのいずれかの価格の動きを示しています。トマトケチャップは、A、Bのどちらか、解答欄のあてはまる方を○で囲みなさい。また、そのように判断した理由について説明しなさい。ただし、保存ということばを用いることとします。

資料



※2020年1月を100とした指数。
 (「小売物価統計調査」から作成)

