

平成 31 年度 鹿屋中央高等学校入学試験問題

社 会

注 意

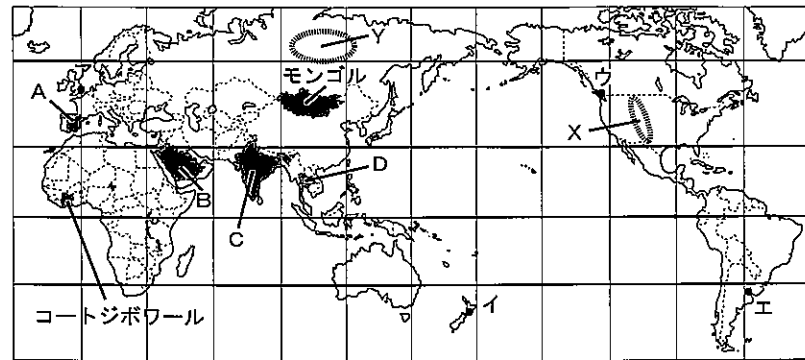
- 1 監督者の「始め」の合図があるまで開いてはいけません。
- 2 問題用紙は表紙を入れて7ページあり、これとは別に解答用紙が1枚あります。
- 3 受験番号や氏名は、解答用紙及び問題用紙の決められた欄に記入しなさい。
また、解答用紙の「QRコードのシールをここにはってください。」と書かれた
わくの中にシールをはみ出さないようにはりなさい。
- 4 答えは、問題の指示に従って、すべて解答用紙に記入しなさい。
- 5 監督者の「やめ」の合図ですぐにやめなさい。

受験 番号	
----------	--

1 次のⅠ～Ⅲの問いに答えなさい。答えを選ぶ問いについては一つ選び、その記号を書きなさい。

Ⅰ 次の略地図を見て、1～6の問いに答えよ。

- 略地図中のモンゴルのように、海に面していない国を何というか。
- 略地図中のア～エの都市のうち、最も遅く新年を迎える都市はどれか。
- 略地図中のXで行われている農業について述べた次の文の①、②に適することばを補い、これを完成させよ。ただし、②は、スプリンクラーということばを使うこと。



① ② に適することばを補い、これを完成させよ。ただし、②は、スプリンクラーということばを使うこと。

Xでは、①方式による大規模なかんがい農業が行われている。この農業が行われている地域では農地が円形に整えられているが、それは②ためである。

4 略地図中のA～Dの国で主に信仰されている宗教について述べた文として、最も適当なものどれか。

- ア Aの国は、キリスト教の中でも、プロテスタントを信仰する人々の割合が多い。
 イ Bの国にはイスラム教を信仰する人々が多く、その信者は牛肉を食べることができない。
 ウ Cの国で仏教の開祖が生まれたため、この国には仏教を信仰する人々が最も多い。
 エ Dの国の仏教徒の男性は、一生に一度出家し、僧侶としての修行を積むならわしがある。

5 右の資料は、略地図中のYでみられる住居の写真である。資料

この地域の住居が、資料のように高床になっている理由を書け。ただし、永久凍土ということばを使うこと。



6 下の図1は、略地図中のコートジボワールの主な輸出品割合を示したもので、図2は、図1中のZにあてはまる農作物の、2008年から2017年までの取引価格の推移を示したものである。Zにあてはまる農作物を答えよ。また、図1、図2からわかるコートジボワールの経済の問題点を書け。ただし、国の収入ということばを使うこと。

図1 コートジボワールの輸出品割合

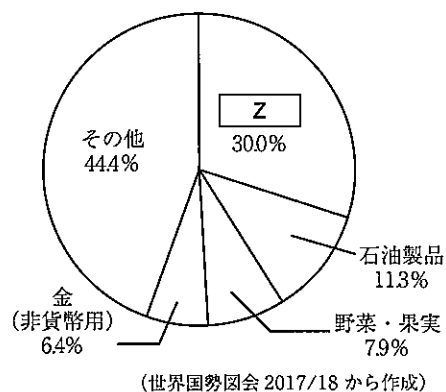
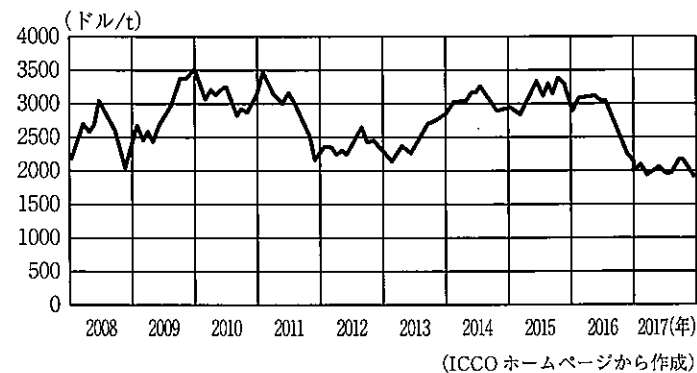


図2 Zの取引価格の推移(2008～2017年)



Ⅱ 次の略地図を見て、1～6の問いに答えよ。

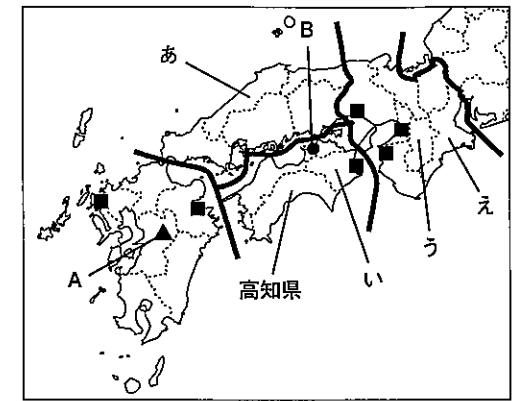
1 略地図中のあ～えの各県のうち、県庁所在地名が県名と異なるものの組み合わせとして正しいものはどれか。

- ア (あ, う) イ (あ, え)
 ウ (い, う) エ (い, え)

2 略地図中のAには、火山の爆発や噴火によってできた巨大なくぼ地が見られる。このくぼ地を何というか。

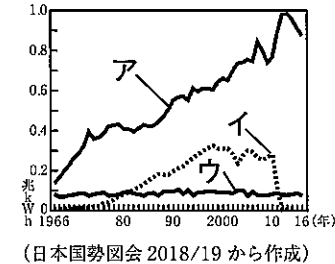
3 略地図中の近畿地方について関して述べた文のうち、正しいものはどれか。

- ア 北部にはけわしい山地が連なり、南部にはなだらかな山地が続いている。
 イ 近江盆地にある日本最大の湖である琵琶湖からは、信濃川が流れ出している。
 ウ 大阪府の内陸部に位置する東大阪市や八尾市には、中小企業の工場が集中している。
 エ 京都府では、清水焼や加賀友禅などの伝統的工芸品が地場産業として根づいている。



4 資料1は、日本の発電電力量の推移を示したものである。略地図中の■の施設による発電量を示したものは、資料1中のア～ウのうちどれか。

資料1

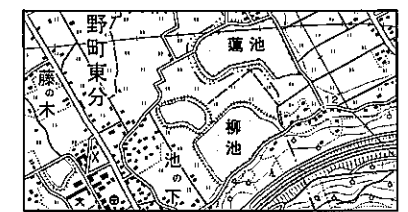


(日本国勢協会 2018/19 から作成)

5 資料2は、略地図中のBの付近の地形図である。Bの付近のようすについて述べた次の文の①、②に適することばを補い、これを完成させよ。

Bの付近は、夏と冬の①が山地にさえぎられることから年間を通して降水量が少なく、水不足になりやすいために、古くから②が多くつくられている。

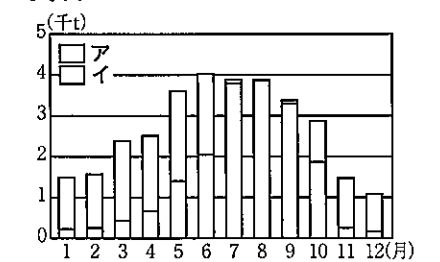
資料2



(国土地理院 2万5千分の1地形図「丸亀」平成24年発行から作成)

6 資料3は、東京都中央卸売市場におけるなすの出荷量を示したもので、ア、イは略地図中の高知県産、高知県産以外のいずれかである。高知県産の出荷量を示しているのはア、イのどちらか。また、そのように判断した理由を説明せよ。

資料3



(東京都中央卸売市場ホームページから作成)

Ⅲ 資料1は、京浜工業地帯と北関東工業地域の製造品出荷額の推移を示したものである。近年、北関東工業地域の地位が高まってきた理由を、資料2、資料3を参考にして書け。

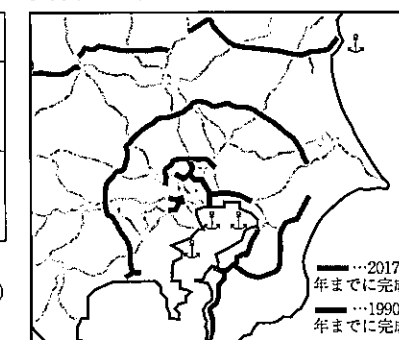
資料1

	1990年	2015年
京浜工業地帯	515,908	261,086
北関東工業地域	272,484	300,006

単位：億円

(日本国勢協会 2018/19 から作成)

資料2 関東地方の高速道路網



資料3 工場団地数と工業用地の面積

	工場団地数	工業用地面積 (ha)
東京都	2	10.08
神奈川県	13	62.36
茨城県	22	466.68
栃木県	19	116.97
群馬県	8	114.79

(2017年)

注：工業用地面積は、現在分譲可能なもの

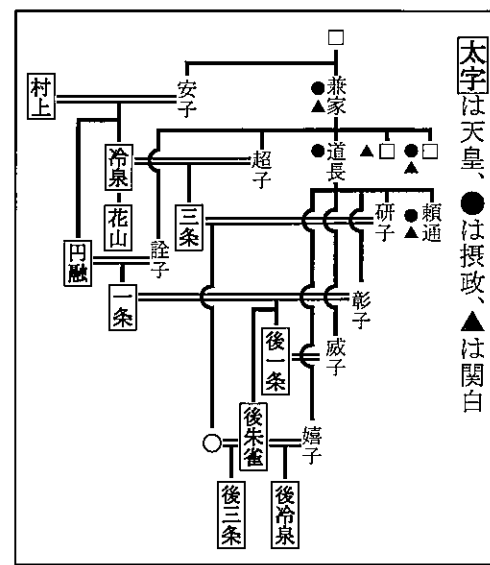
(2017年版産業用地ガイドから作成)

2 次のⅠ～Ⅲの問いに答えなさい。答えを選ぶ問いについては一つ選び、その記号を書きなさい。

Ⅰ 次の略年表を見て、1～6の問いに答えよ。

年	できごと
239	邪馬台国の女王卑弥呼が魏に使いを送る… A
1016	a 藤原道長が摂政になる
1334	後醍醐天皇が建武の新政を始める… B
1467	応仁の乱がおこる… C
1716	徳川吉宗が [] の改革を始める… D
1858	b 外国人居留地での自由貿易が認められる

資料1



- [] にあてはまる最も適切なことばを漢字2字で書け。
- 下線部 a について、資料1は、藤原氏の系図を示したものである。藤原氏が大きな権力をもった理由について述べた次の文の [] に適することばを補い、これを完成させよ。

藤原氏は、有力な貴族を次々と退け、広大な荘園をもつようになったことに加えて、娘を天皇のきさきにし、 [] という手段によって大きな権力をもつようになった。

- AとBの間の時期につくられたものを、次のア～エから三つ選び、年代の古い順に並べよ。

ア 和同開珎 イ 金剛力士像 ウ 源氏物語絵巻 エ 鹿苑寺金閣



- BとCの間の時期の世界のようすについて述べた文として、最も適切なものはどれか。

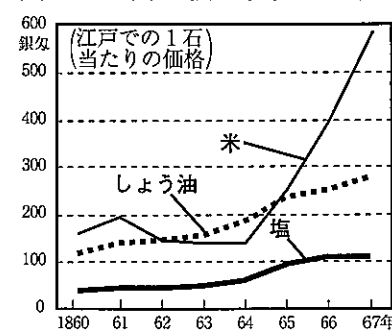
ア バスコ＝ダ＝ガマが、アフリカ南端を通過してインドに着く航路を発見した。
 イ 朝鮮半島で、李成桂が高麗をほろぼし、国名を朝鮮と改めた。
 ウ エルサレムからイスラム勢力を追い払うため、ローマ教皇が十字軍の派遣を呼びかけた。
 エ フビライ＝ハンが中国北部を支配し、都を現在の北京に移して、国名を元と改めた。

- Dのころに見られた株仲間とは、どのような組織かを書け。ただし、税、営業ということばを使うこと。

- 下線部 b の後の日本国内の様子について述べた次の文の [] ①、[] ② に適することばを補い、これを完成させよ。ただし、[] ① は下線部 b のきっかけとなった条約の名称を書き、[] ② は資料2を参考にして書くこと。

1858年に [] ① が結ばれたことで欧米諸国との貿易が始まると、日本からは主に生糸や茶などが輸出されたが、生産が追いつかず、国内では品不足となり、ほかの生活用品も [] ②。

資料2 開国後の物価の推移



(「近世後期における主要物価の動態」から作成)

Ⅱ 次の、ある中学生が日本の外交に関するできごとをまとめた表の一部である。1～6の問いに答えよ。

ア	不平等条約の改正準備を主な目的として、 [] ① を団長とする使節団が派遣されたが、a 日本法律などの制度が整っていないとされ、成功しなかった。
イ	日本は [] ② を理由にドイツに宣戦布告し、b 第一次世界大戦に参戦した。宣戦布告の翌年には、中国に二十一か条の要求を示し、ほとんどの要求を認めさせた。
ウ	リットン調査団の報告をもとに、国際連盟は [] ③ の不承認と占領地からの撤退を日本に勧告したが、日本はこれを受け入れず、国際連盟からの脱退を通告した。
エ	c アメリカは東アジアにおける日本の役割を重んじ、日本との講和を急ぐ方針を示した。その後まもなくサンフランシスコ講和会議が開かれ、日本は独立を回復した。

- [] ①、[] ② にあてはまる最も適切な人名とことばを書け。
- 下線部 a の後の日本の動きについて述べた次の文の [] X、[] Y にあてはまることばの組み合わせとして最も適切なものはどれか。

政府は、のちに初代内閣総理大臣となった [] X をヨーロッパに派遣して、君主の権力が強い [] Y の憲法を中心に調査させた。

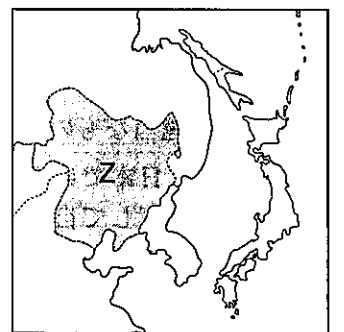
ア (X 伊藤博文 Y ドイツ) イ (X 大久保利通 Y ドイツ)

ウ (X 伊藤博文 Y フランス) エ (X 大久保利通 Y フランス)

- 下線部 b の時期の日本国内のようすについて述べた文として、最も適切なものはどれか。

ア 国内の綿糸生産量が輸入量を上回り、軽工業の産業革命が達成された。
 イ 重工業が急成長したことがかつてない好景気となり、「成金」と呼ばれる人々が現れた。
 ウ アメリカへの生糸の輸出量が減ったため、農村部を中心に深刻な不況におそわれた。
 エ 官営の八幡製鉄所が北九州に建設され、国内で鉄鋼の生産が本格的に始められた。

- [] ③ には、略地図中の Z に建国された国名があてはまる。略地図 ウのころの東アジアこの国名を書け。



- 下線部 c に関して、アメリカが日本との講和を急ぐきっかけとなった、東アジアでおこったできごとを何というか。
- 上の表中のウとエの間の時期のできごとについて述べた文として、最も適切なものはどれか。
 ア 第四次中東戦争をきっかけとして、石油危機がおこった。
 イ 社会主義の動きを取りしめる、治安維持法が制定された。
 ウ 与党を自民党、主要野党を社会党とする政治体制が始まった。
 エ 二・二六事件がおこり、複数の大臣が殺傷された。

Ⅲ 資料は、明治時代に発行された地券である。江戸時代に安定しなかった税収を確実にするために、明治政府はどのような改革を行ったか。ただし、改革の名称と、その内容を明らかにして書くこと。

資料



3 次のⅠ～Ⅲの問いに答えなさい。答えを選ぶ問いについては一つ選び、その記号を書きなさい。

Ⅰ 次は、ある先生と生徒の会話の一部である。1～6の問いに答えよ。

生徒：今年はさまざまなきごとが予定されていますね。まず、4月30日に今上天皇が退位し、翌日に新しい天皇が即位されます。
 先生：そうですね。今上天皇の退位にもなういくつかの儀式が、**a 国事行為**として行われる方針であることも決まっています。
 生徒：これらは、**b 日本国憲法の天皇の項目を改正**することで可能になったのでしょうか。
 先生：今上天皇の退位と新天皇の即位は、**c 国会**で特例法が成立したことで可能になりました。特例法では、退位は今上天皇一代限りとされていますが、**d 政府**は「将来の先例になりうる」という考えを示しています。
 生徒：そして、10月には消費税率が \square %に引き上げられる予定です。
 先生：それと同時に、**e 軽減税率制度**が実施されます。軽減税率についても説明しましょう。

- \square にあてはまる最も適当な数字を答えよ。
- 下線部 a について述べた次の文の \square に適することばを補い、これを完成させよ。
 国事行為とは、日本国憲法で天皇が行うものとして規定されている行為で、天皇が国事行為を行うときは、 \square が必要である。
- 下線部 b に関して、日本国憲法の改正手続きについて述べた文として、最も適当なものはどれか。
 ア 憲法改正原案は、衆議院の優越により、必ず衆議院から審議される。
 イ 憲法改正の発議には、衆参両議院それぞれの総議員の3分の2以上の賛成が必要になる。
 ウ 国会の発議後に国民審査が行われ、有効投票の過半数の賛成を得ると憲法が改正される。
 エ 改正された憲法は、国会が国民の名において公布する。
- 下線部 c に関して、衆議院が内閣不信任決議を可決した場合、内閣は10日以内に衆議院を解散するか、総辞職をするかを選ばなくてはならない理由を書け。ただし、**信任**、**連帯**ということばを使うこと。
- 下線部 d に関して、次の文の $\square X$ 、 $\square Y$ にあてはまることばの組み合わせとして最も適当なものはどれか。

日本では近年、 $\square X$ 政府をめざす改革が進められている。具体的には、許認可権を見直して自由な経済活動を行う $\square Y$ を行ったり、地方分権を推進したりする試みがなされている。

- ア (X 大きな Y 規制緩和) イ (X 大きな Y 財政政策)
 ウ (X 小さな Y 規制緩和) エ (X 小さな Y 財政政策)

6 下線部 e は、酒類・外食をのぞく飲食料品と、定期購読している新聞については、今年の10月以降も8%の消費税率が適用されるという制度である。軽減税率制度が採用されることになった理由を、資料をもとにして書け。

資料 平成30年度の所得税率と消費税率

課税所得金額 (円)	所得税率	消費税率
195万以下	5%	8%
195万を超え330万以下	10%	
330万を超え695万以下	20%	
695万を超え900万以下	23%	
900万を超え1800万以下	33%	
1800万を超え4000万以下	40%	
4000万を超え	45%	

Ⅱ 次は、ある中学生が公民の授業中に作成したメモの一部である。1～5の問いに答えよ。

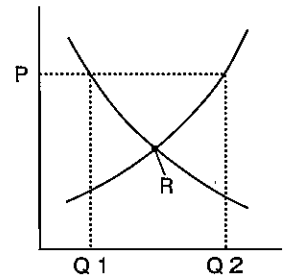
基本的人権	消費者主権	市場経済	国際関係
近年、 a 日本国憲法に直接的に規定していない権利も主張 されている。	b 消費者を保護するためのさまざまなしくみ が整えられている。	c 商品の価格は需要と供給の関係で変化する。	191か国が加盟する d 国際連合 のほか、 e 地域統合 も各地で行われている。

- 下線部 a に関して、現在、医療の現場で「インフォームド・コンセント」が行われる機会が増えている。これが行われる背景にある「新しい人権」にもとづく行為として、最も適当なものはどれか。
 ア 臓器提供意思表示カードの所持 イ 環境アセスメントの義務化
 ウ 個人情報保護法の制定 エ 国や地方公共団体への情報公開請求

2 下線部 b について、訪問販売や電話勧誘などで商品を購入した場合、購入後、一定の期間内であれば、消費者側から無条件で契約を解除できる制度を何というか。カタカナで書け。

- 下線部 c に関して、資料1について述べた次の文の $\square X$ 、 $\square Y$ にあてはまる式とことばの組み合わせとして最も適当なものはどれか。また、 $\square Z$ に適することばを書け。

価格がPのときは、 $\square X$ であらわされる量の商品が $\square Y$ 状態である。また、需要量と供給量がつりあう資料中のRの価格を $\square Z$ 価格という。



- ア (X $Q_2 + Q_1$ Y 売れ残っている)
 イ (X $Q_2 - Q_1$ Y 売れ残っている)
 ウ (X $Q_2 + Q_1$ Y 不足している)
 エ (X $Q_2 - Q_1$ Y 不足している)

資料2

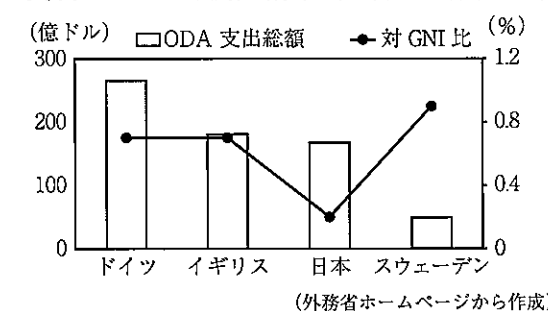
国名	賛否	国名	賛否
アメリカ	×	ウルグアイ	○
ロシア	○	日本	○
イギリス	○	エチオピア	○
フランス	○	カザフスタン	○
中国	○	ボリビア	○
エジプト	○	スウェーデン	○
セネガル	○	イタリア	○
ウクライナ	○		

4 下線部 d に関して、資料2は、2017年に安全保障理事会である事案を採決した際の各国の意思を示したものである。この事案が最終的に否決された理由を書け。

5 下線部 e に関して、環太平洋地域で開催されている、アジア太平洋経済協力会議の略称は何か。

Ⅲ 日本は、1970年代末から、発展途上国の経済や福祉の向上のために政府開発援助 (ODA) を急速に拡大している。日本のODAの特徴を、資料1、資料2をもとにして書け。

資料1 ODAと国民総所得 (GNI) に占める割合 (2016年)



資料2 ODA形態別内訳 (2016年)

国名	贈与 (百万ドル)		政府貸付など (百万ドル)
	無償資金	技術協力	
ドイツ	12,395	4,333	4,991
イギリス	9,131	2,526	11
日本	3,512	2,071	7,857
スウェーデン	3,136	388	47

※政府貸付は、将来、発展途上国が返済することを前提とした協力。
 (2017年版開発協力白書から作成)